

1. В свежесозданный пруд было запущено 8 кг малька белого амура и 2 кг малька окуня. Какое минимальное количество комбикорма (кг), который потреблял только малёк белого амура, использовал хозяин пруда, если в конце сезона он выловил 68 кг белого амура и 8 кг окуня? В 100 г комбикорма запасено 300 ккал энергии, а в 100 г биомассы консументов — 100 ккал. Переход энергии с одного трофического уровня на другой протекает в соответствии с правилом 10%.

Ответ запишите цифрами в виде целого числа, единицы измерения не указывайте. Например: 12.

2. В свежесозданный пруд было запущено 10 кг малька карпа и 5 кг малька щуки. Какое минимальное количество комбикорма (кг), который потреблял только малек карпа, использовал хозяин пруда, если в конце сезона он выловил 190 кг карпа и 47 кг щуки? В 100 г комбикорма запасено 300 ккал энергии, а в 100 г биомассы консументов — 100 ккал. Переход энергии с одного трофического уровня на другой протекает в соответствии с правилом 10 %.

Ответ запишите цифрами в виде целого числа, единицы измерения не указывайте. Например: 12.

3. В свежесозданный пруд было запущено 3 кг малька карася и 2 кг малька щуки. Какое минимальное количество комбикорма (кг), который потреблял только малек карася, использовал хозяин пруда, если в конце сезона он выловил 53 кг карася и 6 кг щуки? В 100 г комбикорма запасено 300 ккал энергии, а в 100 г биомассы консументов — 100 ккал. Переход энергии с одного трофического уровня на другой протекает в соответствии с правилом 10 %.

Ответ запишите цифрами в виде целого числа, единицы измерения не указывайте. Например: 12.

4. В свежесозданный пруд было запущено 20 кг малька плотвы и 2 кг малька окуня. Какое минимальное количество комбикорма (кг), который потреблял только малек плотвы, использовал хозяин пруда, если в конце сезона он выловил 30 кг плотвы и 7 кг окуня? В 100 г комбикорма запасено 300 ккал энергии, а в 100 г биомассы консументов — 100 ккал. Переход энергии с одного трофического уровня на другой протекает в соответствии с правилом 10 %.

Ответ запишите цифрами в виде целого числа, единицы измерения не указывайте. Например: 12.

5. В свежесозданный пруд было запущено 22 кг малька белого амура и 12 кг малька щуки. Какое минимальное количество комбикорма (кг), который потреблял только малёк белого амура, использовал хозяин пруда, если в конце сезона он выловил 172 кг белого амура и 24 кг щуки? В 100 г комбикорма запасено 300 ккал энергии, а в 100 г биомассы консументов — 100 ккал. Переход энергии с одного трофического уровня на другой протекает в соответствии с правилом 10%.

Ответ запишите цифрами в виде целого числа, единицы измерения не указывайте. Например: 12.

6. Определите тип изменчивости для каждого из предложенных примеров:

Пример

- А. зимой у сиамских кошек темнеет шерсть
- Б. у тетраплоидной ржи зерновки крупнее, чем у диплоидных растений
- В. рождение резус-положительного ребенка у резус-отрицательных родителей
- Г. при переселении жителя равнин в горы количество эритроцитов в его крови увеличилось
- Д. в результате скрещивания дигетерозиготных растений гороха с желтыми гладкими семенами появились потомки с зелеными морщинистыми семенами

Тип изменчивости

- 1. мутационная
- 2. комбинативная
- 3. модификационная

Ответ запишите в виде сочетания букв и цифр, соблюдая алфавитную последовательность букв левого столбца. Например: А1Б2В2Г3Д1.

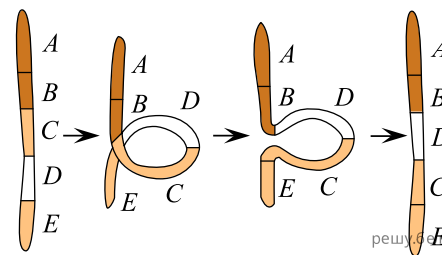
7. Пять видов водорослей имеют следующие пределы выносливости по отношению к температуре окружающей среды:

- 1) 15–55 °С;
- 2) 25–45 °С;
- 3) 20–30 °С;
- 4) 3–18 °С;
- 5) 10–40 °С.

Расположите данные виды в порядке убывания их экологической пластичности.

Ответ запишите цифрами, соблюдая полученную последовательность. Например: 52314.

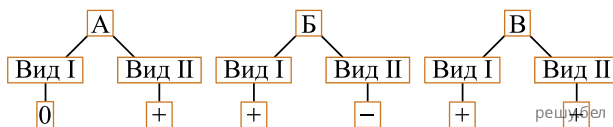
8. На рисунке изображена схема возникновения мутации. Выберите три признака, характеризующие данную мутацию:



1. генная мутация;
2. хромосомная мутация;
3. такой тип мутаций называется делецией;
4. такой тип мутаций называется инверсией;
5. сопровождается поворотом участка хромосомы на 180°;
6. происходит изменение последовательности нуклеотидов в пределах одного гена.

Ответ запишите цифрами в порядке возрастания. Например: 135.

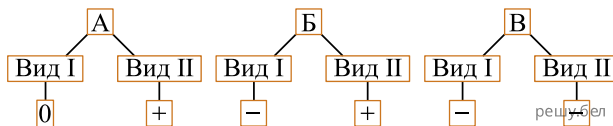
9. На схеме представлены типы биотических взаимоотношений А — В (символ «+» обозначает пользу от взаимодействия для вида, символ «-» — отрицательное влияние, символ «0» — отсутствие значимых последствий). Для каждого типа взаимоотношений подберите соответствующий пример:



1. маслёнок и лиственница;
2. вирус табачной мозаики и растение табака;
3. молодые сосны и берёзы в густом подросте смешенного леса;
4. рак отшельник и нереис, который живёт в раковине и питается остатками его пищи.

Ответ запишите в виде сочетания букв и цифр, соблюдая алфавитную последовательность букв. Например: А1В2В2.

10. На схеме представлены типы биотических взаимоотношений А — В (символ «+» обозначает пользу от взаимодействия для вида, символ «-» — отрицательное влияние, символ «0» — отсутствие значимых последствий). Для каждого типа взаимоотношений подберите соответствующий пример:



1. подберёзовик и берёза;
2. рыжий и чёрный тараканы, живущие на одной территории;
3. крупные медузы и крабы, которые живут под зонтиками этих медуз;
4. щука и веслоногие рачки, поражающие жабры и кожу рыбы и питающиеся за её счёт.

Ответ запишите в виде сочетания букв и цифр, соблюдая алфавитную последовательность букв. Например: А1В2В2.

11. Установите соответствие:

Пример	Тип связей
А) на суше лягушки становятся добычей гадюки	1) топические
Б) корневые выделения дуба подавляют рост белой акации	2) фабрические
В) паутинные клещи высасывают сок из листьев винограда крабов	3) трофические
Г) морские желуди поселяются на панцире крупных	
Д) птица ремез использует сухие волокна крапивы для строительства гнезда	

Ответ запишите в виде сочетания букв и цифр, соблюдая алфавитную последовательность букв левого столбца. Например: А1Б2В2Г1.

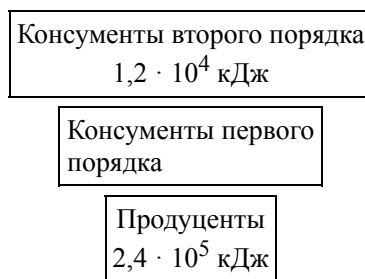
12. Установите соответствие:

Пример	Тип связей
А) лягушка питается мухами	1) топические
Б) лисицы на шерсти переносят цепкие плоды лопуха	2) форические
В) мелкие насекомые в жару концентрируются в тени дерновин ковыля	3) трофические
Г) рак-отшельник поселяется в пустой раковине брюхоногого моллюска	
Д) личинки жука-нарывника поджидают пчел на цветках нивяника, затем прикрепляются к ним и таким образом попадают в ульи	

Ответ запишите в виде сочетания букв и цифр, соблюдая алфавитную последовательность букв левого столбца. Например: А1Б2В2Г1.

13. Дана пищевая цепь: дуб → шелкопряд → поползень → ястреб. На первом трофическом уровне энергетический запас в виде чистой первичной продукции составляет $5 \cdot 10^4$ кДж энергии. На втором и третьем трофическом уровне на прирост биомассы организмы используют по 10 % своего пищевого рациона. Рассчитайте, сколько энергии (кДж) используют наприрост биомассы консументы третьего порядка, если на дыхание они расходуют 60 % и с экскрементами выделяют 35 % энергии рациона.

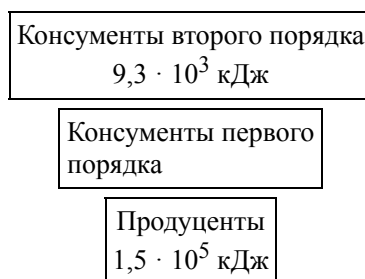
14. Экологическая пирамида охотничьего угодья имеет следующий вид:



Используя данные пирамиды, определите, разрешение на отстрел скольких волков (консументов второго порядка) можно выдать для восстановления экологического равновесия, если известно, что в теле одного волка сохраняется 400 кДж полученной энергии. Процесс трансформации энергии с одного трофического уровня на другой протекает в соответствии с правилом Р. Линдемана.

Ответ запишите цифрами в виде целого числа, единицы измерения не указывайте. Например: 12.

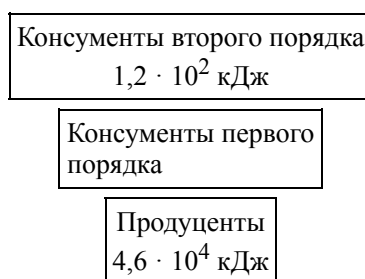
15. Экологическая пирамида охотничьего угодья имеет следующий вид:



Используя данные пирамиды, определите, разрешение на отстрел скольких лисиц (консументов второго порядка) можно выдать для восстановления экологического равновесия, если известно, что в теле одной лисицы сохраняется 300 кДж полученной энергии. Процесс трансформации энергии с одного трофического уровня на другой протекает в соответствии с правилом Р. Линдемана.

Ответ запишите цифрами в виде целого числа, единицы измерения не указывайте. Например: 12.

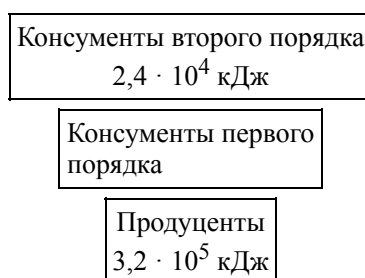
16. Экологическая пирамида охотничьего угодья имеет следующий вид:



Используя данные пирамиды, определите, разрешение на отстрел скольких косуль (консументов первого порядка) можно выдать для восстановления экологического равновесия, если известно, что в теле одного консумента первого порядка сохраняется 200 кДж полученной энергии. Процесс трансформации энергии с одного трофического уровня на другой протекает в соответствии с правилом Р. Линдемана.

Ответ запишите цифрами в виде целого числа, единицы измерения не указывайте. Например: 12.

17. Экологическая пирамида охотничьего угодья имеет следующий вид:



Используя данные пирамиды, определите, разрешение на отстрел скольких волков (консументов второго порядка) можно выдать для восстановления экологического равновесия, если известно, что в теле одного волка сохраняется 400 кДж полученной энергии. Процесс трансформации энергии с одного трофического уровня на другой протекает в соответствии с правилом Р. Линдемана.

Ответ запишите цифрами в виде целого числа, единицы измерения не указывайте. Например: 12.

18. Экологическая пирамида охотничьего угодья имеет следующий вид:



Используя данные пирамиды, определите, разрешение на отстрел скольких косуль (консументов первого порядка) можно выдать для восстановления экологического равновесия, если известно, что в теле одной косули сохраняется 200 кДж полученной энергии. Процесс трансформации энергии с одного трофического уровня на другой протекает в соответствии с правилом Р. Линдемана.

Ответ запишите цифрами в виде целого числа, единицы измерения не указывайте. Например: 12.